



**ROTEIRO DE REVISÃO E RECUPERAÇÃO DE ESTUDOS**

**1º TRIMESTRE**

**ESCOLA MUNICIPAL DR. VITÓRIO FRANKLIN**

**PROFESSORA: LUCI ANE FERNANDES      TURMA: Sala de Recurso B - Grupo 1**

**COMPONENTES CURRICULARES: LÍNGUA PORTUGUESA E MATEMÁTICA.**

**PERÍODO DE REALIZAÇÃO: 30/11 a 04/12**

<b>O QUE VOCÊ VAI ESTUDAR:</b>	Língua Portuguesa: formação de palavras e frases; leitura e interpretação de texto. Matemática: sistema de numeração; números naturais e situações problemas.
<b>PARA QUE VAMOS ESTUDAR ESSES CONTEÚDOS?</b>	Língua Portuguesa: melhorar a escrita de palavras e frases, ler e interpretar o que está escrito. Matemática: compreender melhor a formação dos números e resolver as situações problemas.
<b>COMO VAMOS ESTUDAR OS CONTEÚDOS?</b>	Resolvendo as questões propostas pela professora e registrando em seu caderno.

**LÍNGUA PORTUGUESA**

1- JUNTE AS SÍLABAS E ESCREVA O NOME DOS DESENHOS.



NA   BA   VA   LA

\_\_\_\_\_



LO   VA   PO   CA

\_\_\_\_\_



CU   MI   Ó   LOS

\_\_\_\_\_



**SECRETARIA MUNICIPAL DE EDUCAÇÃO**

**ATIVIDADES COMPLEMENTARES DE ESTUDO – COVID 19**


2- ESCOLHA UM DESENHO E ESCREVA UMA FRASE:

---

---

---

3- Leia as palavras abaixo para um adulto e depois as escreva embaixo de cada desenho



MALA	MAPA	MESA
MAÇÃ	MOTO	MÃO
MAMADEIRA	MOEDA	MARTELO



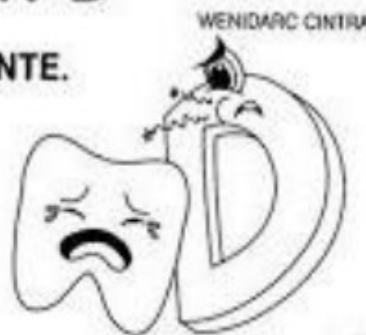
**SECRETARIA MUNICIPAL DE EDUCAÇÃO**  
**ATIVIDADES COMPLEMENTARES DE ESTUDO – COVID 19**

4- DESENHE 5 COISAS QUE COMEÇEM COM A LETRA D E ESCREVA OS NOMES:

5- **LEIA O TEXTO A SEGUIR PARA UM ADULTO.**

**LETRA D**

A LETRA **D** ESTÁ DOENTE.  
PERDEU A ALEGRIA.  
CHAMA O DOUTOR,  
CHORA NOITE E DIA.



6 - RESPONDA COM ATENÇÃO:



**SECRETARIA MUNICIPAL DE EDUCAÇÃO**

**ATIVIDADES COMPLEMENTARES DE ESTUDO – COVID 19**

a) COMO A LETRA D ESTÁ ?

R: \_\_\_\_\_

b) O QUE ELA PERDEU?

R: \_\_\_\_\_

c) O QUE ELA FAZ ,DE DIA E DE NOITE ?

R: \_\_\_\_\_

7- COPIE NOVAMENTE AS FRASES EM SEU CADERNO , COLOCANDO OS NOMES DOS DESENHOS .

 O  BRINCA COM O  DE LÃ

\_\_\_\_\_

GATO - NOVELO

 A  É DA 

\_\_\_\_\_

BEXIGA - MENINA

 A  GOSTA DE OLHAR A 

\_\_\_\_\_

CORUJA - LUA


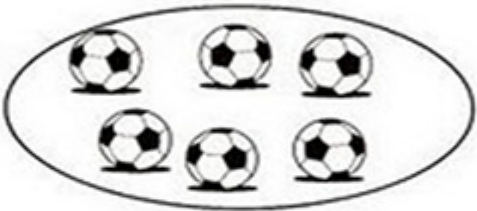


**MATEMÁTICA**



**SECRETARIA MUNICIPAL DE EDUCAÇÃO**

**ATIVIDADES COMPLEMENTARES DE ESTUDO – COVID 19**

**1- CONTE OS DESENHOS E COLOQUE OS NÚMEROS:**

	<input type="text"/>
	<input type="text"/>
	<input type="text"/>
	<input type="text"/>

**2- FAÇA NÚMEROS ATÉ ONDE VOCÊ SABE:**

---

---

---

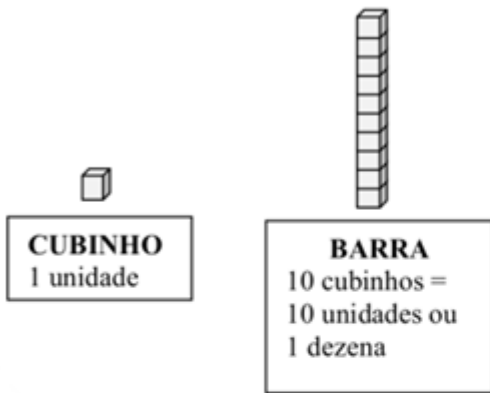
---



**SECRETARIA MUNICIPAL DE EDUCAÇÃO**

**ATIVIDADES COMPLEMENTARES DE ESTUDO – COVID 19**

**3 - REPRESENTAR O NÚMERO COM MATERIAL DOURADO:**



5= \_\_\_\_\_



13= \_\_\_\_\_

20= \_\_\_\_\_

16= \_\_\_\_\_

10= \_\_\_\_\_

**4 - COLOCAR OS NÚMEROS DAS MAÇÃS EM ORDEM CRESCENTE:**





SECRETARIA MUNICIPAL DE EDUCAÇÃO

ATIVIDADES COMPLEMENTARES DE ESTUDO – COVID 19

- 5- NO ESTACIONAMENTO HAVIA  PARADAS. SAÍRAM . QUANTAS MOTOS FICARAM NO ESTACIONAMENTO?

FATO:

..... - ..... = .....

- 6- NA PISTA DO AEROPORTO HAVIA . POUSARAM MAIS . QUANTOS AVIÕES FICARAM NA PISTA?

FATO:

..... + ..... = .....